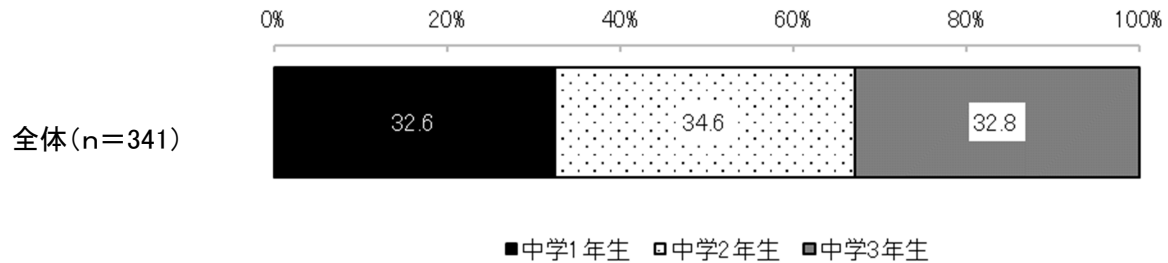


## 中学生の調査結果

### 1 あなたのことにについて教えてください

問 1 学年を教えてください。(あてはまるものを1つ選択してください)

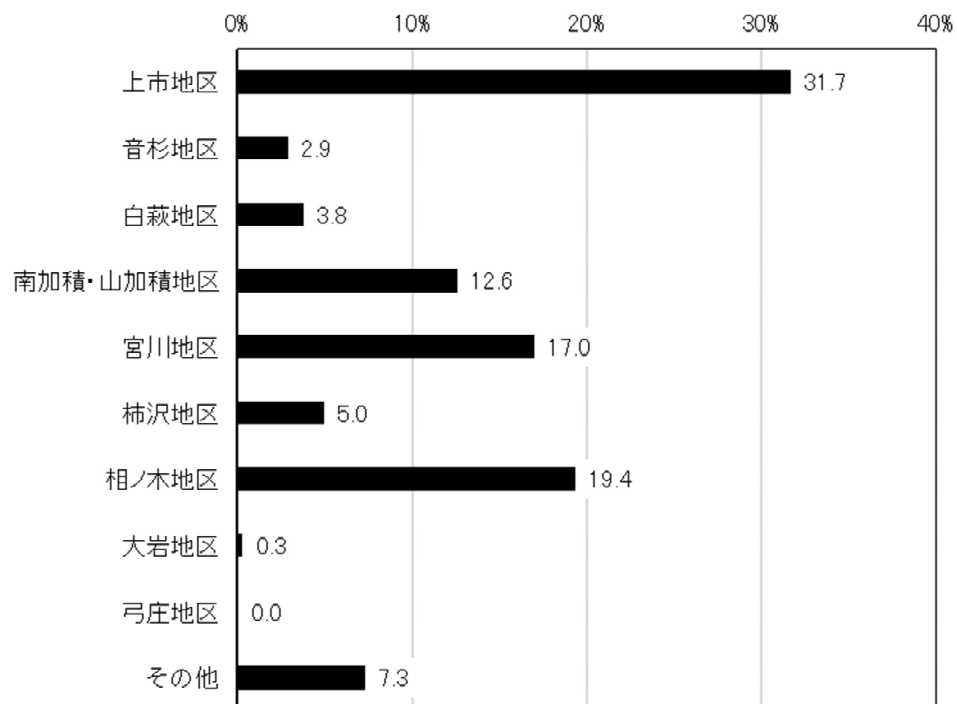
- ・回答者は中学1年生が32.6%、2年生が34.6%、3年生が32.8%で、ほぼ均等に分布している。
- ・調査対象は各学年からバランスよく集まっている。



問 2 この地区にお住まいですか。(あてはまるものを1つ選択してください)

- ・「上市地区」が最も多く31.7%、次いで「相ノ木地区」19.4%、「宮川地区」17.0%である。
- ・「音杉地区」「白萩地区」は少なく、「弓庄地区」は回答がなかった。
- ・「その他」には女川地区、新屋地区、三日市地区、湯上野地区など複数の地区が含まれる。

全体(n=341)



#### [その他内容]

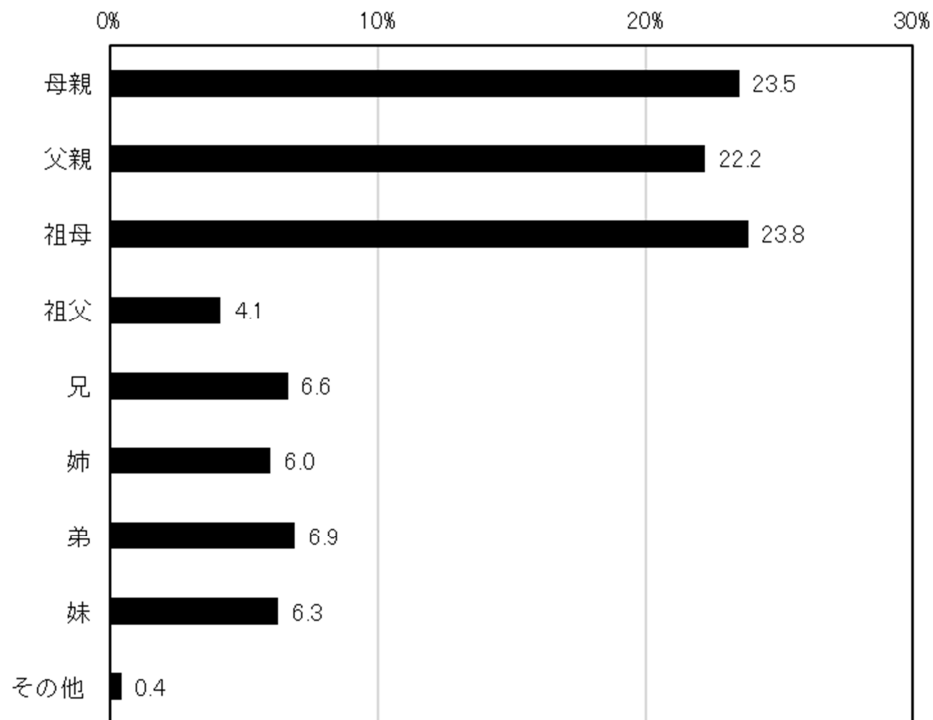
- |           |           |            |            |
|-----------|-----------|------------|------------|
| ・女川地区 4 件 | ・新屋地区 2 件 | ・三日市地区 2 件 | ・湯上野地区 2 件 |
| ・富山市 2 件  | ・黒川地区     | ・広野地区      | ・四葉        |
| ・横越       | ・滑川市      | ・魚津市江口     | ・立山町       |

## 中学生の調査結果

問 3 現在一緒に住んでいる家族について教えてください。(あてはまるものをすべて選択してください)

- ・「母親」「父親」「祖母」と同居している割合が多い。
- ・「祖父」「兄」「弟」「姉」「妹」と同居している生徒も一定数いる。

全体(n=1,430)



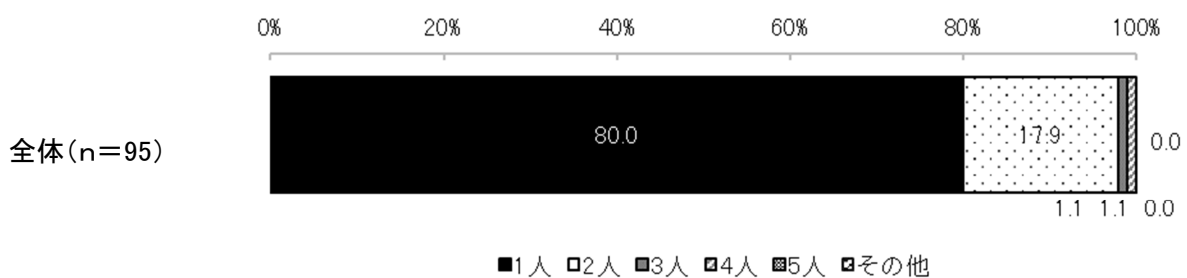
[その他内容]

- ・叔母 2 件
- ・伯父
- ・祖祖母
- ・曾祖母
- ・いとこ

問 3 で「兄」「姉」「弟」「妹」と回答した方

問 3-(1) 兄は何人ですか。(あてはまるものを1つ選択してください)

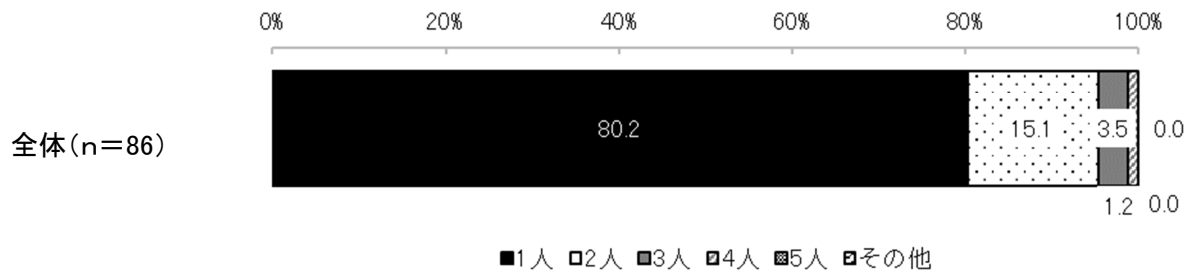
- ・「1 人」と回答した生徒が最も多く、80.0%である。
- ・2 人以上の兄がいるケースは少ない。



## 中学生の調査結果

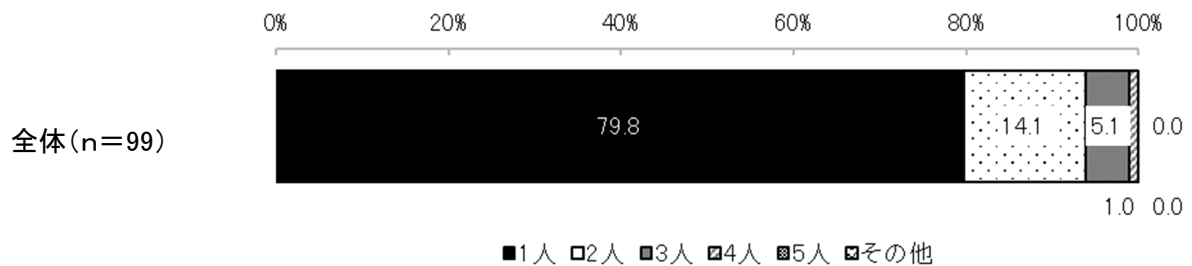
問 3-(2) 姉は何人ですか。(あてはまるものを1つ選択してください)

- ・「1人」と回答した生徒が最も多く、80.2%である。
- ・2人以上の姉がいるケースは少ない。



問 3-(3) 弟は何人ですか。(あてはまるものを1つ選択してください)

- ・「1人」と回答した生徒が最も多く、79.8%である。
- ・2人以上の弟がいるケースは少ない。



問 3-(4) 妹は何人ですか。(あてはまるものを1つ選択してください)

- ・「1人」と回答した生徒が最も多く、86.7%である。
- ・2人以上の妹がいるケースは少ない。

